

1	Vozač je:
<input type="checkbox"/> 1	svako lice koje se na putu nalazi u vozilu
<input type="checkbox"/> 2	lice koje na putu upravlja vozilom; *
<input type="checkbox"/>	
<input type="checkbox"/>	

2	Novoproizvedena motorna i priključna vozila, nakon obavezne identifikacije vozila prije prve registracije, vlasnici su dužni podvrgnuti redovnom tehničkom pregledu?
<input type="checkbox"/> 1	u toku mjeseca u kojem ističe rok od 24 mjeseci od dana prve registracije vozila, te u toku mjeseca u kojem ističe rok od 36 mjeseci od dana prve registracije vozila;
<input type="checkbox"/> 2	u toku mjeseca u kojem ističe rok od 12 mjeseci od dana prve registracije vozila, te u toku mjeseca u kojem ističe rok od 36 mjeseci od dana prve registracije vozila;
<input type="checkbox"/> 3	u toku mjeseca u kojem ističe rok od 24 mjeseci od dana prve registracije vozila, te u toku mjeseca u kojem ističe rok od 48 mjeseci od dana prve registracije vozila; *
<input type="checkbox"/>	

3	Kako se naziva uzdužni dio kolovoza namijenjen za saobraćaj vozila u jednom smjeru sa jednom ili više saobraćajnih traka?
<input type="checkbox"/> 1	kolovozna traka; *
<input type="checkbox"/> 2	kolovoz;
<input type="checkbox"/> 3	saobraćajna traka;
<input type="checkbox"/>	

4	Preglednost podrazumijeva:
<input type="checkbox"/> 1	prostor koji učesnik u drumskom saobraćaju može da vidi sa mjesta na kojem se nalazi; *
<input type="checkbox"/> 2	mjesto na raskrsnici sa kojeg vozač vidi ulijevo-udesno najmanje 25 m;
<input type="checkbox"/> 3	mjesto na raskrsnici sa kojeg vozač vidi ulijevo najmanje 25 m;
<input type="checkbox"/>	

5	Stiker-naljepnica je:
<input type="checkbox"/> 1	dokaz o izvršenom tehničkom pregledu;
<input type="checkbox"/> 2	dokaz o plaćenju putarini;
<input type="checkbox"/> 3	dokaz o registrovanju vozila; *
<input type="checkbox"/>	

6	Kako djeca najčešće reaguju u saobraćaju
<input type="checkbox"/> 1	razumno i staloženo;
<input type="checkbox"/> 2	u skladu sa propisima;
<input type="checkbox"/> 3	spontano i nepredvidivo; *
<input type="checkbox"/>	

7	Projektovanjem i gradnjom novih javnih puteva, osim lokalnih, mora da se obezbijedi da podnesu osovinsko opterećenje od:
<input type="checkbox"/> 1	najmanje 10 t po osovini;
<input type="checkbox"/> 2	najmanje 11,5 t po osovini *
<input type="checkbox"/> 3	najmanje 11 t po osovini
<input type="checkbox"/>	

8	Iznad kolovoza javnog puta mora da postoji slobodan prostor u visini od najmanje:
<input type="checkbox"/> 1	4,5 m od najviše tačke kolovoza; *
<input type="checkbox"/> 2	4 m od najviše tačke kolovoza;
<input type="checkbox"/> 3	6 m od najviše tačke kolovoza;
<input type="checkbox"/>	

9	Šta utiče na produženje puta kočenja?
<input type="checkbox"/> 1	mokar i blatnjav kolovoz; *
<input type="checkbox"/> 2	suv kolovoz;
<input type="checkbox"/> 3	opterećenje vozila; *
<input type="checkbox"/>	

10	Koja je najveća dozvoljena brzina kretanja za traktore koji vuku priključno vozilo?
<input type="checkbox"/> 1	40 km/h;
<input type="checkbox"/> 2	30 km/h; *
<input type="checkbox"/> 3	40 km/h;
<input type="checkbox"/>	

11	Kako svojim ponašanjem u saobraćaju, za vrijeme upravljanja vozilom, možete doprinijeti smanjenju saobraćajnog rizika?
<input type="checkbox"/> 1	agresivnom vožnjom;
<input type="checkbox"/> 2	poštovanjem saobraćajnih pravila i propisa; *
<input type="checkbox"/> 3	defanzivnom vožnjom; *
<input type="checkbox"/> 4	nervoznom vožnjom;

12	Pomoću užeta ne smije da se vuče:
<input type="checkbox"/> 1	motorno vozilo na kojem su neispravni uređaji za osvjjetljenje;
<input type="checkbox"/> 2	motorno vozilo na kojem su neispravni uređaji za davanje znakova;
<input type="checkbox"/> 3	motorno vozilo na kojem su neispravni uređaji za zaustavljanje; *
<input type="checkbox"/> 4	motorno vozilo na kojem su neispravni uređaji za upravljanje; *
<input type="checkbox"/> 5	teretno motorno vozilo i autobus; *

13	Ljekarsko uvjerenje o zdravstvenoj sposobnosti za upravljanje motornim vozilom važi?
<input type="checkbox"/> 1	12 mjeseci od dana izdavanja; *
<input type="checkbox"/> 2	mjeseci od dana izdavanja.6
<input type="checkbox"/>	
<input type="checkbox"/>	

14	Krutom vezom ne smije da se vuče motorno vozilo:
<input type="checkbox"/> 1	koje ima ispravan uređaj za upravljanje;
<input type="checkbox"/> 2	teže od vučnog vozila-ako mu je neispravna pomoćna kočnica; *
<input type="checkbox"/> 3	
<input type="checkbox"/> 4	

15	Zaustavljanje vozila je:
<input type="checkbox"/> 1	svaki prekid kretanja vozila na putu u trajanju do 15 minuta, osim prekida koji se pravi da bi se postupilo po znaku ili pravilu kojim se reguliše saobraćaj;
<input type="checkbox"/> 2	svaki prekid kretanja vozila na putu u trajanju do 5 minuta, osim prekida koji se pravi da bi se postupilo po znaku ili pravilu kojim se reguliše saobraćaj; *
<input type="checkbox"/>	
<input type="checkbox"/>	

16	Pješak je:
<input type="checkbox"/> 1	lice koje učestvuje u saobraćaju, a ne upravlja vozilom, niti se prevozi u vozilu ili na vozilu; *
<input type="checkbox"/> 2	lice koje upravlja vozilom, ili se prevozi u vozilu ili na vozilu;
<input type="checkbox"/>	
<input type="checkbox"/>	

17	Koliko kolovoznih traka ima put sa jednosmjernim saobraćajem;
<input type="checkbox"/> 1	dvije kolovozne trake;
<input type="checkbox"/> 2	jednu kolovoznu traku; *
<input type="checkbox"/> 3	više od dvije kolovozne trake;
<input type="checkbox"/>	

18	Autoputem ne smiju da se kreću motorna vozila koja prema svojim konstrukcionim osobinama ne mogu da se kreću brzinom većom?
<input type="checkbox"/> 1	od 40 km/h; *
<input type="checkbox"/> 2	od 60 km/h;
<input type="checkbox"/>	
<input type="checkbox"/>	

19	Prelaz alkohola u krv (resorpcija alkohola) završi se?
<input type="checkbox"/> 1	najkasnije nakon jednog sata od konzumiranja; *
<input type="checkbox"/> 2	najkasnije nakon 24 sata od konzumiranja;
<input type="checkbox"/>	
<input type="checkbox"/>	

20	Smanjena vidljivost postoji kada, zbog nepovoljnih atmosferskih ili drugih prilika, vozač ne može jasno da uoči druge učesnike u saobraćaju:
<input type="checkbox"/> 1	od najmanje 100 m izvan naselja, odnosno najmanje 50 m u naselju;
<input type="checkbox"/> 2	od najmanje 200 m na putu izvan naselja, odnosno od najmanje 100 m u naselju; *
<input type="checkbox"/>	
<input type="checkbox"/>	

21	Obuka iz teoretskog dijela prve pomoći traje:
<input type="checkbox"/> 1	tri školska časa;
<input type="checkbox"/> 2	šest školskih časova. *
<input type="checkbox"/>	
<input type="checkbox"/>	

22	Svjetla za maglu koja se nalaze na prednju strani vozila moraju biti:
<input type="checkbox"/> 1	crvene boje;
<input type="checkbox"/> 2	bijele ili žute boje. *
<input type="checkbox"/>	
<input type="checkbox"/>	

23	Koja svjetla moraju biti upaljena za vrijeme vožnje kroz tunel?
<input type="checkbox"/> 1	kratka svjetla; *
<input type="checkbox"/> 2	duga svjetla;
<input type="checkbox"/> 3	svjetla za maglu.
<input type="checkbox"/>	

24	Koja upozorenja vozačima daju zvučne ili vibracijske trake?
<input type="checkbox"/> 1	na potrebu povećanja brzine kretanja vozila;
<input type="checkbox"/> 2	na potrebu smanjenja brzine kretanja vozila. *
<input type="checkbox"/>	
<input type="checkbox"/>	

25	Kada je organizator dužan prekinuti održavanje sportske ili druge priredbe, odnosno aktivnosti na putu?
<input type="checkbox"/> 1	kada su ugroženi učesnici ili gledaoci; *
<input type="checkbox"/> 2	kada nije narušen javni red i mir;
<input type="checkbox"/> 3	kada nastanu okolnosti zbog kojih priredba, odnosno aktivnosti ne bi bile odobrene; *
<input type="checkbox"/> 4	kada organizator ne provodi određene mjere osiguranja; *
<input type="checkbox"/> 5	kada nisu ugroženi učesnici ili gledaoci.


26	Koliko maksimalno kandidata može biti u jednoj grupi za vrijeme trajanja nastave iz poznavanja propisa o bezbjednosti saobraćaja na putevima?
<input type="checkbox"/> 1	najviše 20 kandidata u jednoj grupi;
<input type="checkbox"/> 2	najviše 30 kandidata u jednoj grupi; *
<input type="checkbox"/> 3	najviše 25 kandidata u jednoj grupi.
<input type="checkbox"/>	


27	Koliko iz opravdanih razloga mogu odsustovati kandidati za vozača motornih vozila koji se osposobljavaju iz poznavanja propisa o bezbjednosti saobraćaja na putevima za kategorije A, B, C i potkategorije C1?
<input type="checkbox"/> 1	najviše dva nastavna časa;
<input type="checkbox"/> 2	najviše osam nastavnih časova; *
<input type="checkbox"/> 3	najviše četiri nastavna časa.
<input type="checkbox"/>	


28	Koje radnje nisu dozvoljene za vrijeme kretanja vozila?
<input type="checkbox"/> 1	uskakati u vozilo i iskakati iz vozila; *
<input type="checkbox"/> 2	otvarati vrata, nagnjati se van vozila; *
<input type="checkbox"/> 3	isturati dijelove tijela iz vozila i voziti se na vanjskim dijelovima vozila ili na traktorskim prikolicama. *
<input type="checkbox"/> 4	slušanje muzike.
<input type="checkbox"/>	


29	Da li se na točkove u toku zimskih uslova na kolovozu smiju postaviti lanci za snijeg?
<input type="checkbox"/> 1	da; *
<input type="checkbox"/> 2	ne;
<input type="checkbox"/> 3	da ukoliko visina sniježnog prekrivača prelazi 5 cm.
<input type="checkbox"/>	


30	U kojem godišnjem periodu je obavezno posjedovanje zimske opreme vozila?
<input type="checkbox"/> 1	od 1. novembra tekuće do 1. aprila naredne godine; *
<input type="checkbox"/> 2	od 15. novembra tekuće do 15. aprila naredne godine.
<input type="checkbox"/>	
<input type="checkbox"/>	

31	Šta treba izbjegavati nailaskom na ovaj saobraćajni znak?	
1	Vožnju prilagođenu uslovima koji vladaju na kolovozu	
2	Nagle pokrete točkom upravljača *	
3	Naglo kočenje i zaustavljanje *	

32	Kako treba postupiti nailaskom na ovaj saobraćajni znak?	
1	Pripremiti se za savladavanje više uzastopnih krivina od kojih je prva udesno *	
2	Učesnike u saobraćaju iza sebe upozoriti desnim pokazivačem pravca	

33	Na koju opasnost upozorava ovaj saobraćajni znak?	
1	Na blizinu dijela puta gdje je uz kolovoz neutvrđena bankina *	
2	Na blizinu dijela puta gdje je zaleđen kolovoz	

34	Kako ćete postupiti nailaskom na ovaj saobraćajni znak?	
1	Nastaviti kretanje vozilom jer imam prvenstvo prolaza	
2	Smanjiti brzinu kretanja vozila i po potrebi zaustaviti vozilo *	
3	Propustiti vozila iz suprotnog smjera *	

35	Tačan naziv saobraćajnog znaka je?	
1	Zabrana saobraćaja za sva motorna vozila * koja vuku priključno vozilo	
2	Zabrana saobraćaja za sva motorna vozila koja vuku laku prikolicu	

36

Kako treba postupiti nailaskom na ovaj saobraćajni znak?

1

Smanjiti brzinu kretanja vozila i povećavati pažnju *

2

Predviditi mogućnost nailaska na poledicu na kolovozu *

3

Povećavati brzinu kretanja vozila



37

Kojim vozilima je zabranjeno kretanje putem označenim ovim saobraćajnim znakom?

1

Bicikli

2

Svim motornim vozilima *



38

Kojim vozilima je dozvoljeno kretanje putem označenim ovim saobraćajnim znakom?

1

Bicikli, mopedi i laki motocikli

2

Motocikli *



39

Koje značenje ima ovaj saobraćajni znak?

1

Zabrana saobraćaja za vozila koja prevoze opasne materije iznad određene količine

2

Zabrana saobraćaja za vozila koja prevoze eksploziv ili neke lako zapaljive materije *



40

Tačan naziv saobraćajnog znaka je?

1

Teren uređen za kampovanje u vozilima *

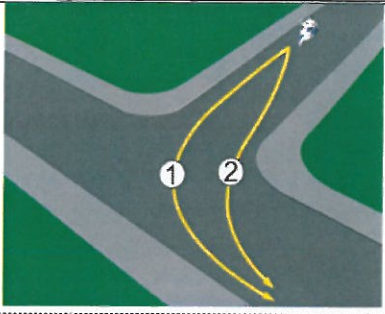
3

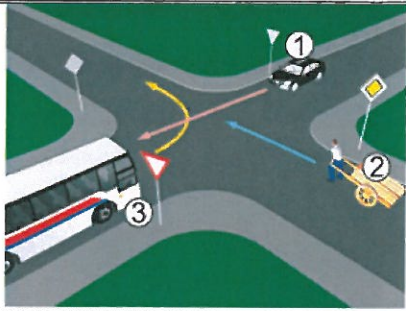
Zabranjeno kampovanje u vozilima



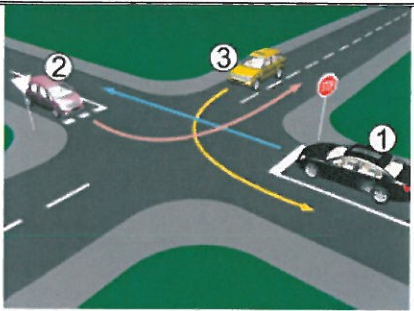
Auto škola ZANASA Sarajevo

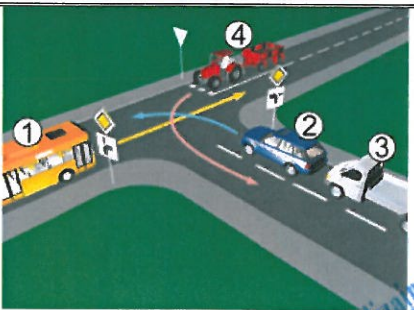
Auto škola ZANASA Sarajevo

41	U saobraćajnoj situaciji kao na slici kojom putanjom vozač motocikla mora izvršiti radnju skretanja ulijevo?	
1	Putanjom broj 2	
2	Putanjom broj 1 *	

42	Koji je redoslijed prolaska vozila na raskrsnici u situaciji kao na slici?	
1	2 – 3 – 1	
2	2 – 1 – 3	
3	1 – 3 – 2 *	

43	Koji je redoslijed prolaska vozila na raskrsnici u situaciji kao na slici?	
1	1 – 2 *	
2	2 – 1	

44	Kako u saobraćajnoj situaciji kao na slici mora postupiti vozač vozila broj 1	
1	Propustiti vozilo broj 3, a zatim proći prije vozila broj 2 *	
2	Propustiti vozilo broj 3, zatim propustiti vozilo broj 2 i zadnji proći kroz raskrnicu	

45	Koji je redoslijed prolaska vozila na raskrsnici u situaciji kao na slici?	
1	2 – 3 – 4 – 1	
2	2 – 3 – 1 – 4 *	
3	1 – 2 – 3 – 4	

46	Koji je redoslijed prolaska vozila na raskrsnici u situaciji kao na slici?	
1	5 – 4 – 3 – 2 – 1 *	
2	1 – 2 – 3 – 4 – 5	

37	Koji je redoslijed prolaska vozila na raskrsnici u situaciji kao na slici?	
1	3 – 2 – 1	
2	1 – 2 – 3 *	

48	Kojim vozilima u saobraćajnoj situaciji kao na slici nije dozvoljen prolaz na raskrsnici?	
1	Vozilo broj 1 i broj 3 *	
2	Vozilo broj 4 i broj 2	

49	Koji je redoslijed prolaska vozila na raskrsnici u situaciji kao na slici?	
1	4 – 3 – 1 – 2 *	
2	3 – 4 – 1 – 2	

50	Koji je redoslijed prolaska vozila na raskrsnici u situaciji kao na slici?	
1	1 – 2 – 3	
2	2 – 3 – 1	