

PROBNI TEST - MOPED

Teoretska pitanja (dvadeset pitanja maksimalno 40 bodova)

1	Da li je vozač motocikla dužan nositi zaštitnu kacigu za vrijeme vožnje na putu?
<input type="checkbox"/> 1	dužan je nositi samo zaštitne naočale;
<input type="checkbox"/> 2	da;
<input type="checkbox"/> 3	ne.
2	

2	Koliko važi registracija vozila čija zapremina motora ne prelazi 50 ccm?
<input type="checkbox"/> 1	nije vremenski ograničena;
<input type="checkbox"/> 2	jednu godinu;
1	

3	Kratko svjetlo na biciklu i mopedu mora biti izvedeno i podešeno tako da osvijetljeni dio ravnog puta:
<input type="checkbox"/> 1	nije duži od 35 m ni kraći od 10 m;
<input type="checkbox"/> 2	nije duži od 50 m ni kraći od 10 m.
2	

4	Izdana vam je vozačka dozvola za A1 podkategoriju. Kojim vozilima imate pravo upravljati?
<input type="checkbox"/> 1	lakim motociklom čija zapremina motora ne prelazi 125cm ³ , a snaga ne prelazi 11kW;
<input type="checkbox"/> 2	triciklom i četvorociklom na motorni pogon.
1	

5	Kolika je najveća dozvoljena širina prikolice koju vuče motocikl, moped i drugi dvotočkaš?
<input type="checkbox"/> 1	1,00 m;
<input type="checkbox"/> 2	0,80 m.

6	Da li je vozač motocikla dužan pravilno koristiti zaštitnu kacigu za vrijeme vožnje motociklom?
<input type="checkbox"/> 1	ne;
<input type="checkbox"/> 2	da;
2	

7	Kolika je najveća dozvoljena širina motocikla sa bočnom prikolicom?
<input type="checkbox"/> 1	1,60 m;
<input type="checkbox"/> 2	2,00 m;
<input type="checkbox"/> 3	2,50 m.
1	

8	Lice koje je položilo vozački ispit i kome je izdata vozačka dozvola za kategoriju A ne smije dvije godine od dana izdavanja vozačke dozvole upravljati vozilom na brzom putu brzinom većom od:
1	60 km/h;
2	90 km/h;
3	100 km/h.
3	

9	Da li kandidat za instruktora vožnje A kategorije može polagati praktični dio ispita na motociklu zapremine motora do 125 ccm i snage motora do 11 kW?
1	da;
2	ne.
2	

10	Kojim vozilima imate pravo upravljati ukoliko imate vozačku dozvolu B kategorije?
1	Mopedom
2	Četvorociklom
3	Vozilima čija je najveća dozvoljena masa veća od 3500 kg
1,3	

11	Osnovna boja znakova opasnosti je?
1	Žuta a ivice trougla su crvene
2	Plava a simboli i natpisi su bijele boje
3	Bijela a ivice trougla su crvene
3	

12	Lice koje je položilo vozački ispit i dobilo vozačku dozvolu za kategoriju/podkategoriju A1, A, B ili C1 ne smije dvije godine od dana izdavanja vozačke dozvole da upravlja vozilom:
1	Na putu sa mokrim kolovozom
2	Na autoputu brzinom većom od 120 km/h
3	Koje nije obilježeno posebnim znakom
2,13	

13	Da li vozač smije da mijenja način upravljanja vozilom naglim smanjenjem brzine kretanja vozila:
1	Da
2	Ne, osim u slučaju neposredne opasnosti
2	

14	Vozačka dozvola izdaje se za upravljanje motornim i priključnim vozilima koja se razvrstavaju u:
1	Kategorije A, B, C, D i E
2	Kategorije A, B, BE, C, CE, D i DE
4	Potkategorije A1, B1, C1, D1, C1E i D1E
2	

15	Pod pojmom biciklistička staza podrazumijeva se:
1	Izgrađena saobraćajna površina namijenjena za saobraćaj bicikala i mopeda, koja se proteže uzduž kolovoza i koja je od njega odvojena i obilježena propisanim saobraćajnim znakom
2	Dio kolovoza namijenjen za saobraćaj bicikala i mopeda, koja se proteže uzduž kolovoza i koja je označena uzdužnom linijom na kolovozu
1	

16	Kako ćete postupiti na raskrsnici ukoliko je na semaforu upaljeno žuto trepćuće svjetlo, a iznad semafora je istaknut znak „STOP“?
1	Obavezno zaustaviti vozilo
2	Voziti bez zaustavljanja
3	Uključiti uređaj za istovremeno uključivanje svih pokazivača smjera
1	


17	Prema čemu prilagođavate brzinu kretanja vozila na putevima van naselja?
1	Prema vremenu putovanja za koje želim stići na odredište
2	Prema trenutnim uslovima na putu i u saobraćaju
3	Prema vrsti puta


18	Pravo da upravlja motornim vozilom za kategorije A, B i BE stiče lice koje ima:
1	16 godina
2	17 godina
3	18 godina
4	19 godina
3	


19	Motornim vozilom ne smije da se vuče?
1	Bicikl
2	Laki motocikl
3	Motocikl sa bočnom prikolicom
4	Motocikl bez bočne prikolice
1,2,4	


20	Kako se naziva uzdužni dio kolovoza namijenjen za saobraćaj vozila u jednom smjeru sa jednom ili više saobraćajnih traka?
1	Kolovozna traka
2	Kolovoz
3	Saobraćajna traka
1	


Saobraćajni znaci (dvadeset pitanja maksimalno 60 bodova)


21	Tačan naziv saobraćajnog znaka je:	
1	Put sa jednosmjernim saobraćajem	
2	Obavezan smjer	
2		


22	Šta treba izbjegavati nailaskom na ovaj saobraćajni znak?	
1	Vožnju prilagođenu uslovima koji vladaju na kolovozu	
2	Nagle pokrete točkom upravljača	
3	Naglo kočenje i zaustavljanje	
2, 3		


23	Koje značenje ima ovaj saobraćajni znak?	
1	Da upravljamo vozilom po jednosmjernom putu	
3	Da je zabranjen saobraćaj iz suprotnog smjera	
1		


24	Na koju opasnost upozorava ovaj saobraćajni znak?	
1	Na blizinu dijela puta gdje je uz kolovoz neutvrđena bankina	
2	Na blizinu dijela puta gdje je zaleđen kolovoz	
2		


25	Tačan naziv saobraćajnog znaka je:	
1	Obavezno zaustavljanje	
2	Nailazak na put sa prvenstvom prolaza	
2		


26	Tačan naziv saobraćajnog znaka je:	
1	Zabrana saobraćaja za sva motorna vozila	
2	Zabrana saobraćaja za sva motorna vozila, osim mopeda	
1		


27	Kako ćete postupiti nailaskom na ovaj saobraćajni znak?	
1	Nastaviti kretanje vozilom jer imam prvenstvo prolaza	
2	Smanjiti brzinu kretanja vozila i po potrebi zaustaviti vozilo	
3	Propustiti vozila iz suprotnog smjera	
2, 3		


28	Tačan naziv saobraćajnog znaka je?	
1	Zabrana saobraćaja za sva motorna vozila koja vuku priključno vozilo	
2	Zabrana saobraćaja za sva motorna vozila koja vuku laku prikolicu	
1		


29	Kako treba postupiti nailaskom na ovaj saobraćajni znak?	
1	Smanjiti brzinu kretanja vozila i povećavati pažnju	
2	Predvidjeti mogućnost nailaska na poledicu na kolovozu	
3	Povećavati brzinu kretanja vozila	
1,2		


30	Kojim vozilima je zabranjeno kretanje putem označenim ovim saobraćajnim znakom?	
1	Bicikli	
2	Svim motornim vozilima	
2		


31	Kojim vozilima je dozvoljeno kretanje putem označenim ovim saobraćajnim znakom?	
1	Bicikli, mopedi i laki motocikli	
2	Motocikli	
2		


32	Koje značenje ima ovaj saobraćajni znak?	
1	Zabrana saobraćaja u oba smjera	
2	Zabrana saobraćaja u smjeru kretanja vozila	
3	Da se saobraćaj odvija iz suprotnog smjera	
2		


33	Koje značenje ima ovaj saobraćajni znak?	
1	Produžetak puta sa prvenstvom prolaza	
2	Završetak puta ili dijela puta sa prvenstvom prolaza	
2		


34	Kako ćete postupiti prilikom nailaska na saobraćajni znak sa dopunskom tablom, ukoliko nastavljate kretanje vozilom pravo?	
1	Propustiću vozila koja se nalaze na putu sa prvenstvom prolaza	
2	Obavezno ću se zaustaviti	
3	Propustiću samo vozila sa desne strane	
1		


35	Kako treba postupiti prilikom nailaska vozilom na ovlašteno lice koje u vašem smjeru kretanja daje znak kao na slici?	
<input type="checkbox"/> 1	Izvršiti radnju skretanja udesno;	
<input type="checkbox"/> 2	Izvršiti radnju skretanja ulijevo;	
<input type="checkbox"/> 3	Obavezno se zaustaviti.	
3		

36	Kako treba postupati za vrijeme upravljanja vozilom i nailaskom na ovaj saobraćajni znak?	
<input type="checkbox"/> 1	Obavezno se zaustaviti, i krenuti ako nema vozila na putu sa prvenstvom prolaza	
<input type="checkbox"/> 2	Usporiti i bez zaustavljanja proći raskrnicu, ako nema vozila na putu sa prvenstvom prolaza	
1		

37	Koje značenje ima ovaj saobraćajni znak?	
<input type="checkbox"/> 1	Mjesto gdje prestaju sve zabrane	
<input type="checkbox"/> 2	Put ili dio puta na kojem vozila imaju prednost prolaza prema vozilima koja se kreću putevima koji se ukrštaju, odnosno spajaju sa tim putem ili dijelom puta	
2		

38	Kako treba postupiti nailaskom na ovaj saobraćajni znak?	
<input type="checkbox"/> 1	Smanjiti brzinu kretanja vozila	
<input type="checkbox"/> 2	Povećavati pažnju i očekivati bicikliste	
<input type="checkbox"/> 3	Povećati brzinu kretanja vozila	
1,2		

39	Tačan naziv saobraćajnog znaka je?	
<input type="checkbox"/> 1	Zabrana saobraćaja za bicikle	
<input type="checkbox"/> 2	Zabrana saobraćaja za bicikle i mopede	
1		

40	Kako postupate za vrijeme upravljanja vozilom nailaskom na ovaj saobraćajni znak?	
<input type="checkbox"/> 1	Smanjujete brzinu kretanja vozila jer nailazite na opasnu krivinu udesno	
<input type="checkbox"/> 2	Izbjegavate kočenje u krivini	
<input type="checkbox"/> 3	Povećavate brzinu kretanja vozila	
1,2		

Raskrsnice (25 pitanja maksimalno 125 bodova)

41	Kako treba postupiti vozač motocikla u saobraćajnoj situaciji kao na slici, ako je na vozilu javnog gradskog prevoza putnika uključen lijevi pokazivač smjera?	
1	nije dužan omogućiti autobusu uključivanje u saobraćaj;	
2	dužan je omogućiti autobusu uključivanje u saobraćaj;	
3	nije dužan omogućiti autobusu uključivanje u saobraćaj jer se autobus nalazi na sporednom putu.	
	2	

42	U saobraćajnoj situaciji kao na slici učesnici u saobraćaju će proći kroz raskrsnicu sljedećim redoslijedom:	
1	Oba bicikla, crveni automobil, zeleni automobil	
2	Zeleni automobil, crveni automobil, pa bicikli	
3	Oba bicikla, zeleni automobil, crveni automobil	
	3	

43	Koji je redoslijed prolaska vozila na raskrsnici u situaciji kao na slici?	
1	1 – 2 – 3	
2	1 – 3 – 2	
3	3 – 1 – 2	
	2	

44	Koji je redoslijed prolaska vozila na raskrsnici u situaciji kao na slici?	
1	2 – 1 – 3	
2	1 – 3 – 2	
3	3 – 2 – 1	
	2	

45	Koji je redoslijed prolaska vozila na raskrsnici u situaciji kao na slici?	
1	1 – 2 – 3	
2	2 – 1 – 3	
3	3 – 1 – 2	
	1	

46	Koji je redoslijed prolaska vozila na raskrsnici u situaciji kao na slici?	
1	3 – 1 – 2	
2	2 – 1 – 3	
3	1 – 2 – 3	
	1	

47	Koji je redoslijed prolaska vozila na raskrsnici u situaciji kao na slici?	
1	3 – 2 – 1	
2	1 – 2 – 3	
3	2 – 1 – 3	
	2	

48	Koji je redoslijed prolaska vozila na raskrsnici u situaciji kao na slici?	
1	1 – 3 – 2	
2	2 – 3 – 1	
3	3 – 2 – 1	
	2	

49	Kako ćete postupiti u saobraćajnoj situaciji kao na slici?	
1	Propustiti pješake koji prelaze preko pješačkog prelaza	
2	Proći prije pješaka	
3	Propustiti tramvaj koji dolazi iz suprotnog smjera	
	1,3	

50	U saobraćajnoj situaciji kao na slici kojom putanjom vozač motocikla mora izvršiti radnju skretanja ulijevo?	
1	Putanjom broj 2	
2	Putanjom broj 1	
	1	

51	Koji je redoslijed prolaska vozila na raskrsnici u situaciji kao na slici?	
1	2 – 3 – 1	
2	2 – 1 – 3	
3	1 – 3 – 2	
3		

52	Koji je redoslijed prolaska vozila na raskrsnici u situaciji kao na slici?	
1	1 – 2	
2	2 – 1	
1		

53	Kako u saobraćajnoj situaciji kao na slici mora postupiti vozač vozila broj 1	
1	Propustiti vozilo broj 3, a zatim proći prije vozila broj 2	
2	Propustiti vozilo broj 3, zatim propustiti vozilo broj 2 i zadnji proći kroz raskrsnicu	
1		

54	Koji je redoslijed prolaska vozila na raskrsnici u situaciji kao na slici?	
1	2 – 3 – 4 – 1	
2	2 – 3 – 1 – 4	
3	1 – 2 – 3 – 4	
2		

55	Koji je redoslijed prolaska vozila na raskrsnici u situaciji kao na slici?	
1	5 – 4 – 3 – 2 – 1	
2	1 – 2 – 3 – 4 – 5	
1		

56	Koji je redoslijed prolaska vozila na raskrsnici u situaciji kao na slici?	
1	1 – 2 – 3	
2	3 – 2 – 1	
3	2 – 1 – 3	
2		

57	Kojim vozilima u saobraćajnoj situaciji kao na slici nije dozvoljen prolaz na raskrsnici?	
1	Vozilo broj 1 i broj 3	
2	Vozilo broj 4 i broj 2	
1		

58	Koji je redoslijed prolaska vozila na raskrsnici u situaciji kao na slici?	
1	4 – 3 – 1 – 2	
2	3 – 4 – 1 – 2	
3	4 – 3 – 2 – 1	
1		

59	Koji je redoslijed prolaska vozila na raskrsnici u situaciji kao na slici?	
1	1 – 2 – 3	
2	2 – 3 – 1	
3	3 – 1 – 2	
3		

60	Koji je redoslijed prolaska vozila na raskrsnici u situaciji kao na slici?	
1	2 – 3 – 1	
2	1 – 3 – 2	
3	2 – 1 – 3	
2		

61	Kako ćete postupiti u saobraćajnoj situaciji kao na slici ako imate namjeru proći raskrsnicu?	
1	Obavezno se zaustaviti, bez obzira ima li vozila sa lijeve strane u raskrsnici	
2	Nastaviti kretanje bez zaustavljanja jer me vozači vozila u raskrsnici moraju propustiti	
3	Zaustaviti se po potrebi, radi propuštanja vozila koja su već u raskrsnici, a potom proći kroz raskrsnicu	
3		

62	Koji je redoslijed prolaska vozila na raskrsnici u situaciji kao na slici?	
1	Autobus, kamion, motocikl	
2	Motocikl, autobus, kamion	
3	Motocikl i kamion istovremeno, pa autobus	
4	Motocikl, kamion, autobus	
4		

63	Koji je redoslijed prolaska vozila na raskrsnici u situaciji kao na slici?	
1	Tramvaj, a zatim istovremeno putnički automobil i motocikl	
2	Motocikl, putnički automobil, tramvaj	
3	Motocikl, tramvaj, putnički automobil	
1		

64	Koje vozilo će u saobraćajnoj situaciji kao na slici posljednje proći kroz raskrsnicu?	
1	Motocikl	
2	Policijsko vozilo koje drugom policijskom vozilu dolazi sa desne strane	
3	Policijsko vozilo koje se nalazi na putu sa prvenstvom prolaza	
1		

65	Koji je redoslijed prolaska vozila na raskrsnici u situaciji kao na slici?	
1	2 – 3 – 1	
2	3 – 1 – 2	
3	1 – 3 – 2	
2		

TAČNI ODGOVORI

TEST - MOPED

1. Teoretska pitanja				2. Saob. znaci			
1	2	11	3	21	2	31	2
2		12	2,3	22	2,3	32	2
3		13	2	23	1	33	2
4	1	14	2	24	2	34	1
5		15	1	25	2	35	
6	2	16	1	26	1	36	3
7		17		27	2,3	37	1
8		18	3	28	1	38	2
9		19	1,2,4	29	1,2	39	1,2
10	1,3	20	1	30	2	40	1
Broj bodova - Maksimum 40				Broj bodova - Maksimum 60			

3. Raskrsnice					
41	2	51	3	61	3
42	3	52	1	62	4
43	2	53	1	63	1
44	2	54	2	64	1
45	1	55	1	65	2
46	1	56	2		
47	2	57	1		
48	2	58	1		
49	1,3	59	3		
50	1	60	2		
Broj bodova - Maksimum 125					

Broj bodova - Maksimum 225 / Minimum za polaganje 200